

SEMANA DEL 24 AL 27 DE NOVIEMBRE

ÁREA: Matemática

GRADO: 4to B

DOCENTES: Natalia Ferrara, Celeste Venier

NUMERACIÓN DECIMAL

¿CÓMO SE COMPONE UN NÚMERO DECIMAL?



SE LEE: DOS ENTEROS, UN DÉCIMO

1) Escribir literalmente cómo se leen los siguientes números decimales

$2,2 =$

$5,4 =$

$1,6 =$

$10,7 =$

$4,8 =$

2) Ordenar los números anteriores de manera descendente

OPERACIONES


a) $315 \times 22 =$

b) $6.300 - 2.014 =$

c) $31.776 : 48 =$


GEOMETRÍA: CÍRCULO Y CIRCUNFERENCIA

CIRCUNFERENCIA



Es el conjunto de puntos que forman una línea curva cerrada. Todos los puntos se encuentran a la misma distancia del CENTRO.

CÍRCULO



Es todo el plano que se encuentra dentro de una circunferencia.

- 1) Diferenciar los siguientes objetos según tengan forma de círculo o de circunferencia y clasificar en un cuadro.



ARO DE HULA HULA



BOTÓN



RELOJ



CINTA SCOTCH



MONEDA



ARGOLLITAS



ANILLO



PLATO

CÍRCULOS	
CIRCUNFERENCIAS	

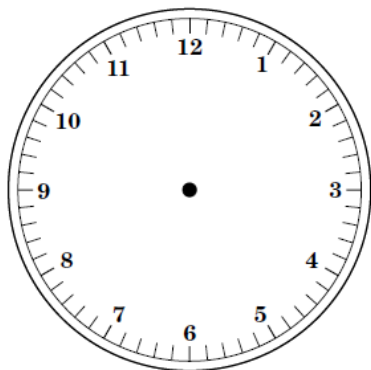
MEDIDAS DE TIEMPO

RESOLVER LA SIGUIENTE SITUACIÓN PROBLEMÁTICA

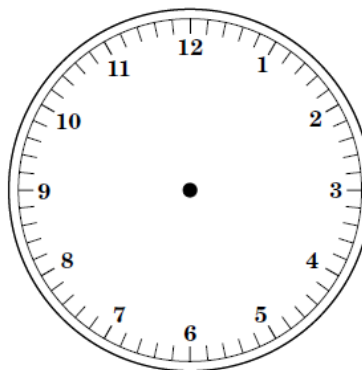
- 1) Anita empezó a cocinar a las 16:25. Le llevó una hora y 15 minutos terminar el postre que hizo.
- A) ¿A qué hora terminó Anita de prepararlo?
- B) Señalar la hora de inicio y de término en los relojes. Podés dibujarlos con el compás.



HORA DE INICIO



HORA DE TÉRMINO



2) Observar el siguiente calendario del mes de Noviembre y señalar con una cruz la respuesta correcta.

DOMINGO	LUNES	MARTES	MIERCOLES	JUEVES	VIERNES	SABADO
1	2	3	4	5	6	7
8	9	10	11	12	13	14
15	16	17	18	19	20	21
22	23	24	25	26	27	28
29	30					

a) El Día de la Tradición fue el 10 de noviembre. Correspondió al día...

jueves lunes martes

b) El 20 de noviembre fue el Día de la Soberanía Nacional. Correspondió a un ...

lunes viernes jueves

c) El siguiente lunes al Día de la Soberanía Nacional fue feriado. Ese feriado correspondió a la fecha ...

22 de noviembre 23 de noviembre 25 de noviembre

3) Señalar el horario digital correcto según lo que te pide. Podés transcribir a tu hoja.

a) ¿Qué reloj marca las tres y cuarto de la mañana?



b) ¿Qué reloj marca las doce y media de la noche?



b) ¿Qué reloj marca las siete y cuarto de la tarde?

