

3ro. A y B

Área: Matemática

Docentes: Mariana y Vanesa.

Semana: 23/11 (33)

1) Completá las siguientes tablas:

1. Don Ramón, el kiosquero, para no hacer las cuentas cada vez, decidió hacer listas como las siguientes. Con ellas puede rápidamente saber lo que les tiene que cobrar por distintas cantidades de un mismo artículo. Completen cómo quedaron las listas de precios.

Cantidad de caramelos	1	2	3	4	5	10
Precio \$	5					

Cantidad de chupetines	1	2	3	4	5	10	15
Precio \$		20					

Cantidad de turrone	1	2	3	4	5	10	15	18	19	20
Precio \$	15									

2) Resolvé colocando PLANTEO - SOLUCIÓN - RESPUESTA:

2. En el club están decidiendo cómo armar los conjuntos de remera y pantalón para el equipo de fútbol. Cuentan con distintas remeras, una de color rojo, otra verde y otra azul, y un pantalón negro y otro blanco. ¿Cuántos conjuntos diferentes se pueden armar? Cuidado: es importante combinar todas las remeras con todos los pantalones.



Cálculos mentales:

¿Qué es cálculo mental?

- El cálculo mental es una parte fundamental de las matemáticas.
- Gracias a él, las personas encontramos herramientas para responder de forma flexible y adecuada a distintas situaciones de la vida cotidiana.
- Consiste en realizar **cálculos** matemáticos utilizando sólo el cerebro, sin ayudas de otros instrumentos como calculadoras o incluso lápiz y papel o los dedos para contar fácilmente.



3) Escribí el resultado de los siguientes cálculos sin hacer la cuenta. Prestá atención a cada consigna:

a) Si saben que $250 + 250 = 500$, intenten encontrar los resultados de estos otros cálculos:

$$2.500 + 2.500 =$$

$$250 + 260 =$$

$$25.000 + 25.000 =$$

$$1.260 + 1.260 =$$

b) Si saben que $250 + 750 = 1.000$, intenten resolver sin hacer la cuenta:


$$2.500 + 7.500 =$$




$$260 + 760 =$$

$$253 + 754 =$$

4) Escribí en letras los siguientes números atendiendo a la ortografía y descomponelos en miles, cienes, dieces y unos:

Ejemplo:

<p>2.824</p> 	<p>Dos mil ochocientos veinticuatro.</p> $2.000 + 800 + 20 + 4$ $1.000 + 1.000 + 100 + 100 + 100 + 100 + 100 + 100 + 100 + 100 + 10 + 10 + 1 + 1 + 1 + 1$
--	---

<p>2.611</p> 	<hr/> <hr/> <hr/> <hr/>
<p>2.098</p> 	<hr/> <hr/> <hr/> <hr/>
<p>2.732</p> 	<hr/> <hr/> <hr/> <hr/>

5) Plegado de figuras: ORIGAMI DE ZORRO:

Mirá el siguiente video del paso a paso. ¡¡ Después de hacerlo subí la foto al classroom !!

https://www.youtube.com/watch?v=PSYmJoE4Rn0&feature=emb_logo

Materiales:

- Una hoja de papel cuadrada de 15 centímetros.
- Marcadores para pintar la cara.

