

3ro. A y B

Área: Matemática

Docentes: Mariana y Vanesa.

Semana: 16/11 (32)

- 1) En un depósito de ferrocarril, tienen tramos de vías con diferente cantidad de durmientes. Completá cada cuadro como te muestro en el ejemplo:

¿QUÉ SON LOS DURMIENTES?: El término durmientes se aplica a las piezas de madera de sección rectangular o casi rectangular que se tienden atravesadas para servir de apoyo a los rieles de las vías férreas.



(7 DURMIENTES)


CUADRO

TRAMOS	1	2	3	4	5	6	7	8
DURMIENTES	7		21					
CUENTA	1x7		3x7					

- Respondé:

- a) Si en 6 tramos se utilizan 30 durmientes ¿En cuántos tramos se utilizan 35?

-
- b) ¿Cuántos durmientes se utilizarán en 11 tramos?
-



(9 DURMIENTES)

CUADRO

TRAMOS	1	2	3	4	5	6	7	8	9	10
DURMIENTES	9									
CUENTA	1x9									

- Respondé:

c) ¿Cuántos tramos de 9 durmientes se utilizan 63?

d) ¿En cuántos tramos de 9 durmientes se utilizan 72?

2) En el juego con aros, los puntos se obtienen según se acierte en blancos cada vez más alejados del tirador. El dibujo muestra el campo de juego:



Ejemplo: Pedro acertó 3 aros en el blanco de 10.000, 1 aro en el blanco de 1.000, 1 aro en el blanco de 100, y 3 en el de 1. ¿Cuántos puntos obtuvo en total?

Pedro obtuvo 31.103 puntos.

- Luego respondé:

a) Vero acertó 5 aros en el blanco de 10.000, 4 en el de 1.000, 2 en el de 100, y 5 en el de 1. ¿Cuántos puntos obtuvo en total?

b) Matías tiró 10 aros y los embocó todos. Obtuvo 21.304 puntos. ¿Cuántos aros pudo haber acertado en cada blanco?

Geometría:


3) Escribí el nombre del cuerpo geométrico que se forma al armar cada molde. Te doy las siguientes opciones, escribí la que corresponda:

PIRÁMIDE	CUBO	PRISMA	CILINDRO
-----------------	-------------	---------------	-----------------


a)



b)








c)



Numeración:

4) Mirá las tarjetas que recibió cada chico. Luego armá los números y uní con la flecha:

	Lucía	4.000	600	60	3	2.185
	Raúl	2.000	100	80	5	4.851
	Agustín	4.000	600	30	6	4.663
	Manuela	2.000	500	80	5	2.585
	Enrique	4.000	800	50	1	4.636

Medida:

5) Leé lo que dice cada chico y escribí a qué reloj corresponde el comentario de cada uno:



A las cinco y media tengo turno en el dentista.

MARÍA



A las cinco en punto empieza mi programa favorito.

JOAQUÍN



A las seis menos cuarto comienza el partido.

LARA



A las cinco y cuarto tengo que llamar a mi abuela.

THIAGO



RELOJ 1



RELOJ 2



RELOJ 3



RELOJ 4

Ejemplo: El comentario de María corresponde al reloj 3
