

Srta. Gabriela
Compartimos estas actividades en Familia.

SEMANA 31



JUEGOS Y ESCALERAS

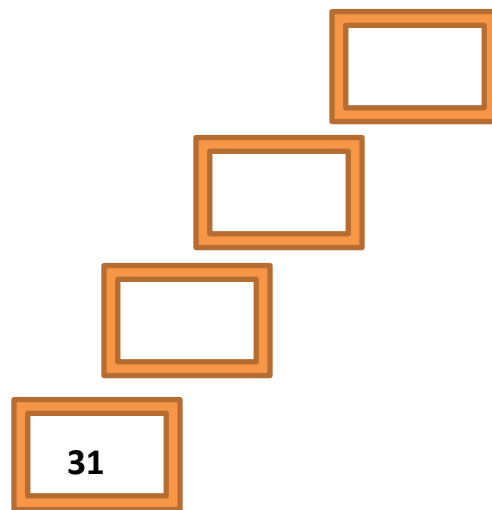
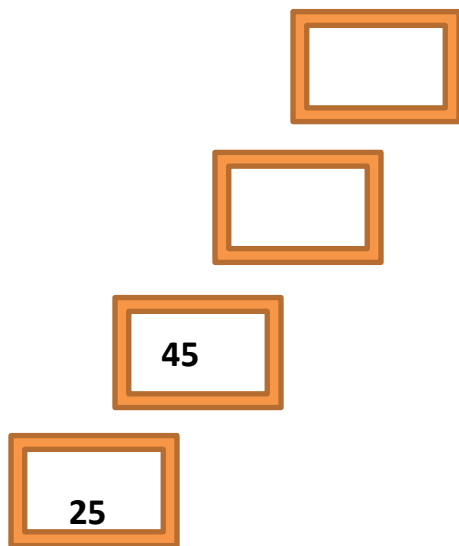
ACTIVIDAD 1

EN ESTE VIDEOJUEGO, LOS CHICOS GANAN 20 PUNTOS EN CADA ESCALÓN.

COMPLETÁ CUÁNTOS PUNTOS LLEVAN ACUMULADOS A MEDIDA QUE SUBEN LA ESCALERA.

JANA TENÍA 5 ANTES DE SUBIR LA
ESCALERA

VERA LLEGÓ A LA ESCALERA CON 11 PUNTOS



ACTIVIDAD 2

ESCRIBÍ EN LETRAS EL NÚMERO AL QUE LLEGARON:

JANA

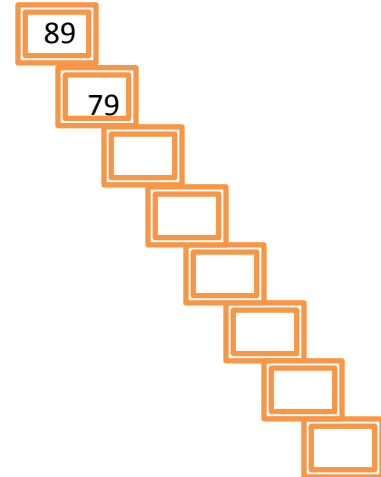
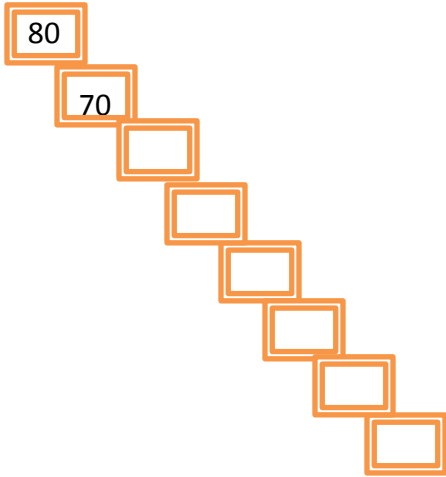
VERA

COPIALOS EN TU CUADERNO.

ACTIVIDAD 3

EN OTRO NIVEL, LOS JUGADORES PIERDEN 10 PUNTOS CADA VEZ QUE BAJAN UN ESCALÓN.

COMPLETÁ LAS ESCALERAS.



ACTIVIDAD 4

PROBLEMAS PARA RESOLVER

1 - MANUELA ESTÁ EN EL CASILLERO 20 DE UN JUEGO Y DEBE AVANZAR 15 CASILLEROS.

¿A QUÉ CASILLERO LLEGARÁ?

2 – MERCEDES SACÓ UN 6 Y MOVIÓ SU FICHA HASTA EL CASILLERO 30.

¿EN QUÉ CASILLERO ESTABA ANTES DE MOVER LA FICHA?

ESCRIBÍ LAS RESPUESTAS EN TU CUADERNO.

ACTIVIDAD 5

BUSCÁ, EN ESTA SOPA DE LETRAS, LOS CUERPOS GEOMÉTRICOS.

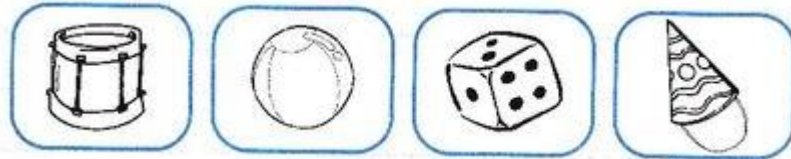


LUEGO COMPLETÁ EL CUADRO

| PUEDEN RODAR | NO PUEDEN RODAR |
|--------------|-----------------|
| | |
| | |
| | |

¿CUÁL ES EL OBJETO?

DESCUBRILLO Y ESCRIBÍ EL NOMBRE DE LOS CUERPOS EN TU CUADERNO.



TIENE FORMA DE **CONO**, ES EL _____

TIENE FORMA DE **ESFERA**, ES LA _____

TIENE FORMA DE **CILINDRO**, ES EL _____

TIENE FORMA DE **CUBO**, ES EL _____