

Srta. Gabriela

SEMANA 28

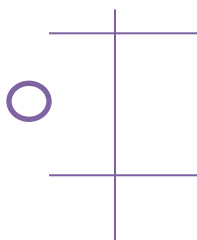
Compartimos estas actividades en Familia.

PROBLEMAS EN EL AIRE

ACTIVIDAD 1

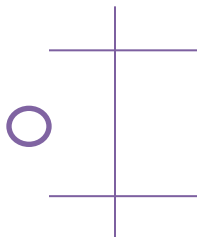
ANITA, CRISTIAN Y EMA SON TRIPULANTES DE CABINA DE UNA AEROLÍNEA.

- ANITA VISITÓ 16 PAÍSES DURANTE JULIO Y OTROS 22 EN AGOSTO ¿CUÁNTOS PAÍSES VISITÓ EN ESOS MESES?



RESPUESTA: VISITÓ \_\_\_\_\_ PAÍSES.

- A CRISTIAN LE PIDIERON 39 VASOS DE JUGO, YA ENTREGÓ 18 ¿CUÁNTOS LE FALTA ENTREGAR?



RESPUESTA: LE FALTA REPARTIR \_\_\_\_\_ VASOS.

- AL EMBARCAR, EMA SE EQUIVOCÓ DE PUERTA. ESTABA EN LA PUERTA 60 Y LE DIJERON QUE LE FALTA AVANZAR 12 PUERTAS, ¿EN QUÉ PUERTA DEBE EMBARCAR?

COMPLETÁ LA TABLA

PUERTA

60	61	62	63									
----	----	----	----	--	--	--	--	--	--	--	--	--

RESPUESTA: EN LA PUERTA \_\_\_\_\_.

PARA REPASAR LO QUE APRENDISTE EN LAS ÚLTIMAS SEMANAS, LUEGO DE RESOLVER LOS PROBLEMAS EN TU CUADERNO. AL COSTADO DE CADA UNO DIBUJÁ CÓMO TE RESULTÓ:



FÁCIL



MÁS O MENOS



DIFÍCIL

### ACTIVIDAD 2

UBICÁ ESTOS NÚMEROS EN EL CUADRO SIN ESCRIBIR LOS DEMÁS.

**31 - 24 - 56 - 48 - 17 - 69**

	1	2	3	4	5	6	7	8	9
10									
20									
30									
40									
50									
60									
70									

### ACTIVIDAD 3

UBICÁ EN EL CUADRO EN COLOR **ROJO** LOS NÚMEROS QUE AVERIGUASTE

EL ANTERIOR A 48...

EL POSTERIOR A 56...

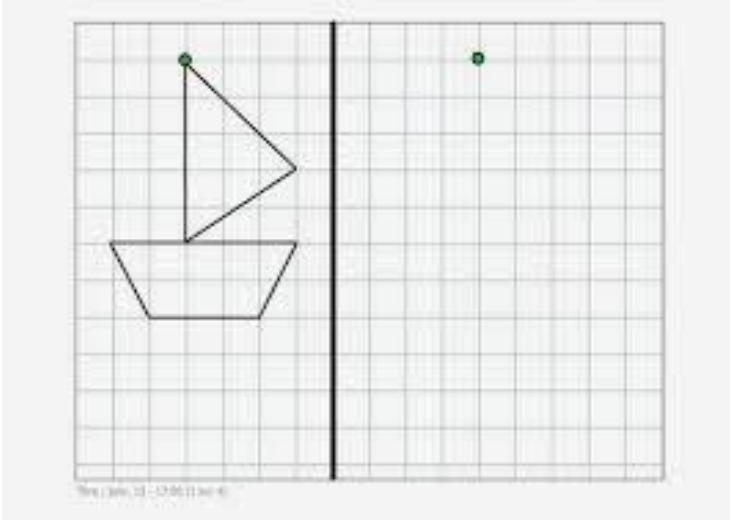
10 NÚMEROS MÁS QUE 17...

5 NÚMEROS MENOS QUE 24...

### ACTIVIDAD 4

COPIÁ ESTE DIBUJO CON FORMAS GEOMÉTRICAS DE MODO QUE QUEDE IGUAL.

RECORDÁ USAR LA REGLA COMO LO HICIMOS EN NUESTRO ENCUENTRO POR MEET.



PODÉS USAR HOJA CUADRICULADA.