

Área: Matemática

Docentes: Vanessa y Luciana

Semana del 30/09 (SEMANA 25)

PARA RESOLVER EN TU HOJA DE TRABAJO, RECORDÁ QUE SI NO IMPRIMIS PODÉS COPIAR LAS TAREAS

I. NUMERACIÓN

1) Para celebrar la Fiesta del Inmigrante se reunieron personas de diferentes países.

Completá la grilla o escribí en tu hoja de trabajo los números de las habitaciones teniendo en cuenta lo que dice cada inmigrante.

700	701	702	703	704	705	706	707	708	709
710									
720									
730									
740									
750									
760									
770									
780									
790									

Respondé las preguntas de forma completa:

- a) ¿Cuántas habitaciones se encuentran ocupadas?
- b) ¿Cuántas están vacías?.....

2) Escribí literalmente los números, teniendo en cuenta la correcta ortografía.

760=.....

797=.....

745=.....

764=.....

3) Ordená de forma **descendente (mayor a menor)** los números del punto 2).

.....

II. GEOMETRÍA

4) A Pablo le regalaron un juego de adivinanzas de figuras. Estas son algunas de las tarjetas del juego.



- Mirá y completá las tarjetas con los datos faltantes.
 - Dibujá la figura que podría ir en la última tarjeta.
 - Pensá y respondé: ¿Qué diferencia hay entre la tarjeta 2 y la 3?
-

III. OPERACIONES.

5) Observá estos elementos provenientes de diferentes países.



Completá la factura sabiendo que se compran 4 artículos de cada producto. Realiza el cálculo correspondiente para cada caso.


Precio unitario: Valor por unidad


Precio total: Valor de más de un producto.


Productos regionales Sol Naciente	Precio unitario	Precio total
careta	\$ 197	$197 \times 4 = 788$
tapiz		
arco y flecha		
jarrón		
boleadoras		

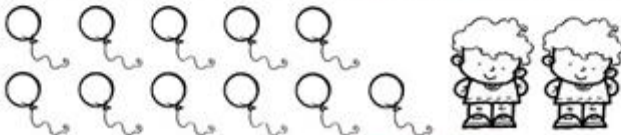
6) **Para repartir**

Repartí la misma cantidad de globos para cada nene, pintá de un mismo color los globos que le corresponde a cada uno. Luego indica la respuesta correcta a la pregunta hecha.

1.  ¿Te sobra algún globo? SÍ NO

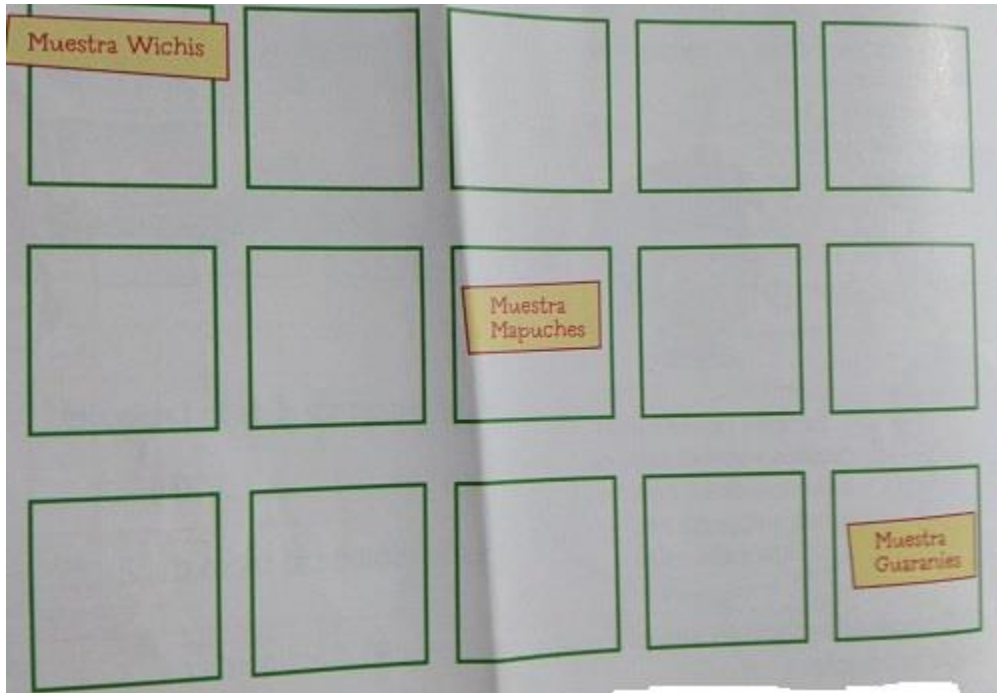
2.  ¿Te sobra algún globo? SÍ NO

3.  ¿Te sobra algún globo? SÍ NO

4.  ¿Te sobra algún globo? SÍ NO

IV. ESPACIO

7) Además de la Fiesta de los Inmigrantes se hizo una muestra de objetos de PUEBLOS ORIGINARIOS. Observá el plano del lugar dónde se celebró la muestra y agregá los dibujos en el lugar indicado.



- A LA DERECHA DE LA MUESTRA MAPUCHE, UN JARRÓN CON MOTIVOS INDIGENAS.
- A LA IZQUIERDA DE LA MUESTRA GUARANÍ, UNA CARETA.
- DOS CUADRAS HACIA LA DERECHA DE LA MUESTRA WICHIS, UN PONCHO.

8) Dibuja en el plano, dónde quieras, unas boleadoras y escribí su ubicación en los renglones.

.....

.....